









Der Zucker

100er - Zuckerrübenfeld

Name: _____

1	2	3	4		6	7	8	9	10
11	12	13	14	15	16	17		19	20
21		23	24	25	26	27	28	29	30
31	32	33	34	35	36	37	38	39	40
41	42	43	44	45	46	47	48	49	
51	52	53	54	55	56	57	58	59	60
61	62	63	64	65	66		68	69	70
71	72	73	74	75	76	77	78	79	80
81		83	84	85	86	87	88	89	90
91	92	93	94	95	96		98	99	100





Der Zucker

100er - Zuckerrübenfeld

Name: _____

- 1 Suche die Zahlen der Zuckerrübenfelder und schreibe sie von der kleinsten zur größten Zahl nieder:

5, 18, 22, 35, 50, 67, 82, 97

- 2 Schreibe die fehlenden Zahlen in die 100er-Tafel.

- 3 Male alle Felder mit einer doppelten Ziffer gelb an.

- 4 Male alle Zahlen mit der Einerzahl 0 blau an.

- 5 Male alle Zahlen mit der Zehnerzahl 8 rot an.

- 6 Welche Zahl wurde zwei Mal bemalt?

80

